

Окружающий мир (человек, природа, общество)

3 класс

Тема: Родной дом

Технологическая карта №6

ОБЛАСТЯМИ НА КАРТЕ ОБОЗНАЧЕНЫ:

- | |
|--|
| 11 Республика Северная Осетия-Алания |
| 12 Республика Ингушетия |
| 13 Чеченская Республика |
| 14 Усть-Ордынский Бурятский автономный округ |
| 15 Агинский Бурятский автономный округ |
- Ингушетия и Чеченской Республикой на карте не показана. В соответствии с оговорками Ингушской Республики в составе Российской Федерации * от 4 административных мероприятий по государственному территориальному разграничению
- областями, на карте не подписаны, кроме областей, в состав которых входит

Учитель прогимназии «Талант»
Кудряшова Светлана
Александровна

Отечество

Назовите значение выражения:


Отчизна

Родной дом

Жилище

Раскройте смысл пословицы «Свой дом – свой простор» и обоснуйте своё мнение.

Бревенчатая ИЗБА



ОБЛАСТЯМИ НА КАРТЕ ОБОЗНАЧЕНЫ:
Краснодарский край
Ставропольский край
Республика Адыгея (Адыгея)
Карачаево-Черкесская Республика
Кабардино-Балкарская Республика

Ингушская и Чеченская Республики
в составе Ингушской Республики
на карте не обозначены



ЗЕМЛЯНКА – жилище в холме



ОБЛАСТИ НА КАРТЕ ОБОЗНАЧЕНЫ:

- 11 Республика Адыгея (Адыгет)
- 12 Республика Карачаево-Черкесская
- 13 Чеченская Республика
- 14 Усть-Ордынский автономный округ
- 15 Ингушская Республика

Ингуштия и Чеченская Республика на карте не показаны. Ингушская Республика в составе Российской Федерации образована в результате государственного-территориального размежевания. На карте не подписаны, кроме областей, в состав которых входят:





ОБЛАСТИ НА КАРТЕ ОБОЗНАЧЕНЫ:

- 11 Республика Северная Осетия – Алания
 - 12 Республика Ингушетия
 - 13 Чеченская Республика
 - 14 Усть-Ордынский Бурятский автономный округ
 - 15 Агинский Бурятский автономный округ
- Ингушетия и Чеченской Республикой на карте не показана. В соответствии с оговорками Ингушетия в составе Российской Федерации * от 4 административных мероприятий по государственно-территориальному разграничению, на карте не подписаны, кроме областей, в состав которых входят

Шалаш из соломы (сена)

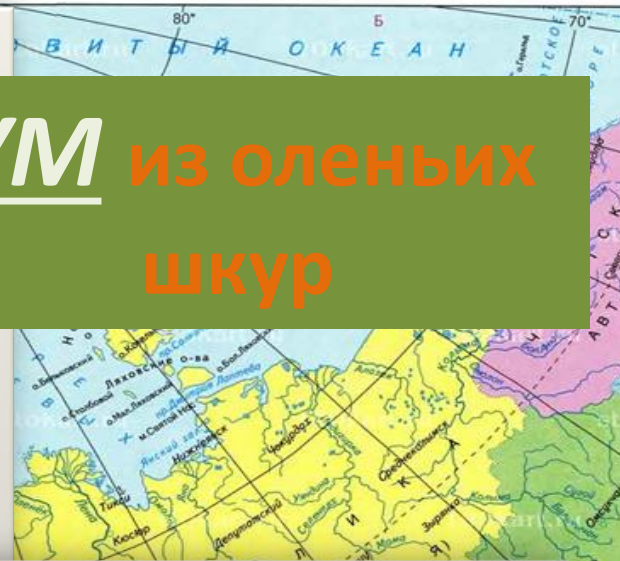
Войлочная
(«войлок» –
валяная шерсть)
Юрта

ОБЛАСТЯМИ НА КАРТЕ ОБОЗНАЧЕНЫ:

11 Республика Северная Осетия – Алания
12 Республика Ингушетия
13 Республика Адыгея (Адыгетия)
14 Республика Карачаево-Черкесская
15 Республика Кабардино-Балкарская
16 Республика Чеченская

Ингушетия и Чеченской Республикой на карте не показана. В соответствии с актами Ингушской Республики в составе Российской Федерации * от 4 административных округов по государственному-территориальному разграничению, на карте не подписаны, кроме областей, в состав которых входят

ЧУМ из оленьих шкур




ОБЛАСТИ НА КАРТЕ ОБОЗНАЧЕНЫ:

- 11 Республика Северная Осетия-Алания
- 12 Республика Ингушетия
- 13 Чеченская Республика
- 14 Усть-Ордынский Бурятский автономный округ
- 15 Агинский Бурятский автономный округ

Ингушетия и Чеченской Республикой на карте не показана. В соответствии с оговорками Ингушской Республики в составе Российской Федерации * от 4 административных мероприятий по государственному территориальному разграничению

Областями, на карте не подписаны, кроме областей, в состав которых входят



Дом-КРЕПОСТЬ на Кавказе (сакля)



ОБЛАСТЯМИ НА КАРТЕ ОБОЗНАЧЕНЫ:

- 11 Республика Северная Осетия – Алания
- 12 Республика Ингушетия
- 13 Чеченская Республика
- 14 Усть-Ордынский Бурятский автономный округ
- 15 Агинский Бурятский автономный округ

Ингушетия и Чеченской Республикой на карте не показана. В соответствии с оговорками Ингушской Республики в составе Российской Федерации * от 4 административных мероприятий по государственно-территориальному разграничению границами, на карте не подписаны, кроме областей, в состав которых входят



1 ФЕДЕРАЦИЯ. ФЕДЕРАТИВНОЕ УСТРОЙСТВО

яранга

чум

сакля

юрта

изба

Соотнесите название жилища с местом проживания соответствующего народа и укажите на карте:

ОБЛАСТИ НА КАРТЕ ОБОЗНАЧЕНЫ:

11 Республика Северная Осетия-Алания
12 Республика Ингушетия
13 Чеченская Республика
14 Усть-Ордынский Бурятский автономный округ
15 Агинский Бурятский автономный округ

Ингушетия и Чеченской Республикой на карте не показана. В соответствии с оговорками Ингушской Республики в составе Российской Федерации * от административных мероприятий по государственно-территориальному разграничению, на карте не подписаны, кроме областей, в состав которых входит

Домашнее задание

Составьте рассказ о традиционном жилище одного из народов вашего края и оформите к нему иллюстрацию.

ОБЛАСТИ НА КАРТЕ ОБОЗНАЧЕНЫ:

- | | |
|---------------------------------|--|
| Краснодарский край | 11 Республика Северная Осетия-Алания |
| Ставропольский край | 12 Республика Ингушетия |
| Республика Адыгея (Адыгэ) | 13 Чеченская Республика |
| Карачаево-Черкесская Республика | 14 Усть-Ордынский Бурятский автономный округ |
| Кабардино-Балкарская Республика | 15 Агинский Бурятский автономный округ |

Ингушетия и Чеченской Республикой на карте не показана. В соответствии с оговорками Ингушской Республики в составе Российской Федерации * от административных мероприятий по государственному территориальному размежеванию, на карте не подписаны, кроме областей, в состав которых входят